

Questions 1 à 17 : niveau 1 (CP-CE1), questions 20 à 39 : niveau 2 (CE2-CM2) L'aide d'un adulte est la bienvenue !

Les indices sont disponibles à la fin de l'article ainsi que les réponses...

1° Va au numéro 730 (en face de la petite maison de la bascule). Pour connaître le nom de ce commerce (magasin) qui existait à Lancié, trouve ce que signifie le rébus que tu trouveras : _____

2° Recherche la maison n° 41 sur le plan.

Grâce à **un outil** placé sur cette maison, devine le métier de la famille : _____

3° Recherche la maison n° 17 sur le plan. Grâce à un indice affiché, devine le métier. _____

4° Recherche la maison n°40 sur le plan.

Grâce à **des objets** placés sur cette maison, devine l'activité de ce commerce _____

5° Recherche la maison n°39 sur le plan.

Grâce à **la photo d'un objet** placé sur cette maison, devine ce que cet artisan fabriquait _____

6° Recherche la maison n°33 sur le plan.

Grâce à ce que tu trouveras **dans un petit sac** sur cette maison, devine ce que ce commerce vendait _____

A quoi cela servait ? _____

7° Comment se nomme l'ancien restaurant de Lancié ? _____

D'où vient ce nom ? Entoure la bonne réponse

- a) C'est le nom d'un grand cuisinier.
- b) C'est le nom du Dieu romain du vin
- c) C'est le nom d'un plat délicieux

8° Sur cette ancienne carte postale, face à l'église on voit bien la poste :

- Est-ce que l'escalier pour entrer dans cette maison existe toujours ? OUI / NON
- Quel numéro est écrit sur la porte tout au bout ? Marque-le :



9° En bas de la rue, voici le carrefour du réverbère, maintenant il y a un grand rond-point !

Indique au moins 4 **autres** éléments qui ont changé entre cette photo et la rue aujourd'hui :



.....

.....

.....

.....

10° Le charron est un artisan spécialiste du bois et du métal. Il conçoit, fabrique les roues.



Il y en avait un, à l'emplacement de la croix bleue. Ecris le nom de la rue **et** le numéro de cette maison :

.....


11° Trouve la maison au numéro 790.

A côté du portail, sur le poteau à droite se trouve une petite enseigne avec un animal :

c'est un clin d'œil au nom des propriétaires ! Quel est cet animal ?



12° Trouve la maison au numéro 745 : au-dessus de la porte d'entrée de la maison, se trouve une sorte de petit toit. (Peut-être devras-tu traverser la grande route pour le voir !).



Entoure la photo correcte :



13° Face à l'église, se trouve une ruelle. Elle permettait à la population de venir de la place des Pasquiers plus facilement. Indique les numéros des maisons qui se trouvent à droite **et** à gauche de la ruelle (attention celle de gauche est un peu plus proche de la ruelle) :

.....

.....

14°



Sauras-tu retrouver cette maison avec les marches (où les dames discutent) : c'était une épicerie !

Aujourd'hui combien y a-t-il de marches :

PLUS

MOINS

PAREIL

Ajoute une précision si tu veux :

.....

Reconnais-tu la porte actuelle ? Entoure-la



DANS L'EGLISE :

15° Quel est le personnage féminin représenté par une statue et qui porte une armure ? _____

16° Où est située l'ancienne croix en bois avec le Christ ? _____

Combien vois-tu de clous ? _____

17° Quel objet porte le personnage sur le vitrail de gauche dans le chœur ? _____

Cet objet sert :

- a) à ouvrir la piscine
- b) à rentrer au paradis
- c) à ouvrir un coffre-fort

20° Dans le magasin multi services, on trouve de la nourriture et des objets divers.

Ce magasin s'appelle une _____.

Le nom de ce magasin vient du commerce des épices.

A Lancié on trouvait ce magasin dans la maison sur la photo.

Indique le numéro que tu peux lire **sur le plan** _____



21° Dans ce magasin on trouvait des articles de rouennerie. En te servant de la photo de la maison,

indique le numéro que tu peux lire **sur le plan** _____

Que signifie cette activité ?

- a) c'est un magasin de roues
- b) c'est un magasin dans lequel on trouve du riz
- c) c'est un magasin dans lequel on trouve du fil, des aiguilles, et du tissu de Rouen dont on faisait des sacs.



22° Dans ce local se trouvait une modiste. En te servant de la photo, indique le numéro que tu peux lire **sur le plan** _____

Elle fabriquait

- a) des robes de mariée
- b) des chapeaux
- c) des maillots de bain



23° **En traversant** l'ancien garage automobile (tu sentiras encore l'odeur de l'huile de moteur), on arrive sur :

le eju de sulobe. (Remets les lettres dans l'ordre) _____

La porte est ouverte. Entre et indique le nom des deux gros arbres. Ce sont des p _ _ _ _ _ .

Sur la droite du terrain, par-dessus le muret, on voit :

- une ancienne ruelle
- un ancien ruisseau
- un ancien souterrain

24° Pour trouver le nom de ce commerce (magasin) qui existait à Lancié, sur la place du parking du Bacchus, résous cette charade :

Mon premier est 1000kg : _____

Mon deuxième est un verbe synonyme du verbe attacher : _____

C'était un : _____ Il fabriquait et vendait des _____

25° Quelle est la couleur des briques des murs de la maisonnette où on lisait le poids d'un véhicule placé sur un plancher mobile au début de la Rue Grolée ? _____

26° Recherche la maison n°11 sur le plan

A cet emplacement se trouvait une ancienne poste et le télégraphe.

Indique la couleur des murs de cette maison _____

Explique le sens du mot télégraphe, sachant que ce mot vient du grec

En grec **graphein** signifie écrire

En grec **tele** signifie au loin.

Définition du télégraphe : il sert à _____

27° Dans la maison à l'angle de la Route du Beaujolais et du Chemin du Bacchus se trouvait un bureau de

catba (remets les lettres dans l'ordre) _____

Aujourd'hui cette maison, **sur le plan**, c'est le numéro _____

28° Pour trouver le nom de ce commerce (magasin) qui existait à Lancié (numéro 36 sur le plan) résous cette charade

Mon premier est un objet rond qui sert à jouer à la pétanque : _____

Mon deuxième est une créature imaginaire blanche qui a des ailes : _____

Mon troisième est une céréale petite et blanche que les Asiatiques aiment beaucoup. _____

C'est une _____

29° Sur cette photo, tu vois le boucher et sa famille devant sa boucherie.

Sauras-tu la localiser dans la rue ? Indique de quelle couleur sont les volets aujourd'hui :

Indique au moins 1 autre élément de la maison qui a changé :



30°




Dans la route du Beaujolais, se trouvent 2 ruelles libres de passage sur la droite quand tu montes la rue.

Place-toi de façon à regarder dans la 1^{ère} ruelle : la 1^{ère} maison à gauche abritait une épicerie, une fabrique de cercles de tonneaux, mais aussi un marchand de tissus et de sabots !

Quelle est la numérotation de cette maison ? (numéro sur la façade au-dessus de la 2^{ème} porte)

31° Sur la plaque de cocher située sous l'abri, attenant à l'ancienne poste, est indiqué le niveau au-dessus de la mer du village de Lancié. Note -le :



Les plaques de cocher étaient placées assez haut (2,50 m) afin d'être facilement vues par les cochers.

Ces plaques indicatrices ont été apposées au bord des voies de communication en France à partir de 1835.

DANS L'ÉGLISE

32° Combien y a-t-il de panneaux en bois sculptés qui forment le tour de la chaire ? _____

Indice : en hauteur

33° Pourquoi le bénitier extérieur à gauche du porche d'entrée est-il si haut ?

- a) pour le protéger des inondations
- b) parce que les gens étaient beaucoup plus grands avant
- c) parce que le niveau du sol a été descendu


34° Compte les tableaux sculptés, tous surmontés d'une croix, autour de l'église qui racontent cette histoire du chemin de croix. Combien y en a-t-il ?

- a) 8
- b) 14
- c) 20

En t'aidant de ces tableaux, écris 9 en chiffres romains _____

35° Quelle est la date inscrite sur une dalle du sol dans l'allée de droite ? _____

36°



Va sur le parking où les collégiens et les lycéens prennent le bus (676 route du Beaujolais, c'est la grande rue). Avant, à la place du parking, il y avait plusieurs maisons et plusieurs artisans : Forgeron, couturière, marchand de sabots, repasseuse, ...

Pour savoir en quelle année les maisons ont été détruites :

D'abord, fais l'addition en respectant la valeur des lettres qui composent le mot « sabotier » :

A = 300	B = 57	E = 6	I = 628	O = 0
R = 437	S = 36	T = 500	total =	

Combien y a-t-il de place de parking réservées aux personnes porteuses de handicap ? :

Soustrais ce nombre à ton total :

Ce nombre correspond à l'année où les maisons ont été détruites !

Indices :

Question 1 :



Question 2 :



Question 3 :



Question 4 :



Question 5 :



Question 6 :



Réponses course d'orientation 2025

1° Rébus : boulangerie (Boules- ange- riz)

2° objet : truelle Maçon

3° objet : photo boucherie métier : Boucher

4° objets : ciseaux/peigne/sèche cheveux Coiffeur

5° photo : sabot Sabotier

6° dans sac : charbon ça sert à se chauffer/cuisiner grâce à un poêle

7° Le Bacchus Dieu romain du vin

8° OUI numéro : 679

9° ce qui a changé (seulement 4 à trouver): route goudronnée/ constructions à droite et à gauche/ Murs/ réverbères/ trottoirs/ marquage au sol/ dos d'âne/ panneaux

10° Rue Grolée numéro : 208

11° chat (Propriétaires M Mme Minet)

12° photo n°2 (le petit toit s'appelle une marquise)

13° 706 et 708

14° Pareil mais celle du bas est moins haute maintenant ! la porte en haut des marches actuellement est la 1ère photo

15° Jeanne d'Arc

16° Au-dessus de l'entrée dans l'église/ 4 clous

17° Une clé pour rentrer au paradis

20° épicerie n° 29

21° n° 30 / c- magasin dans lequel on trouve du fil, des aiguilles, et du tissu de Rouen dont on faisait des sacs

22° n° 13 chapeaux

23° jeu de boules / platanes / une ancienne ruelle

24° tonne/ lier Tonnelier tonneaux

25° jaunes et orange (rouge accepté)

26° beige (ou orange clair ou marron clair accepté)

27° tabac n°6

28° boules ange riz boulangerie

29° Volets blancs ce qui a changé : plus de portes/ plus de marches / plus d'avancée (auvent au-dessus de la porte)

30° 764

31° 187m (65)

32° 4 panneaux

33° sol descendu

34° 14 IX = 9

35° Total : 1964 + nbre de place handicap : 1 = année 1963

Plan des commerces et artisans « grande rue »
dans les années 1950

Course d'orientation
proposée aux écoliers
dans le cadre des
Journées Européennes
du Patrimoine 2025

